


問 題

だい かい なかの し けんてい 第4回 中野市ふるさとジュニア検定

期日／2022年(令和4年)11月20日(日)

会場／中野市中央公民館
西部公民館
北部公民館
豊田公民館



(ふるさとラビット)

NPO ほうじん 法人 信州ふるさと じんしゅう 郷育 ネットワーク きょういく

長野県地域発元気づくり支援金活用事業

中野市 ふるさと検定問題 (ジュニア版)

次の各問いの中から、正しいと思う番号を一つ選び、解答用紙にその番号を書いて下さい。

問い1

麻衣さんが歌う「中野市のイメージソング」の歌詞の中に出てくることばが3つあります。正しいものはどれでしょう。

- 1 紅葉・雪・りんご 2 菜の花・春・りんご 3 紅葉・雪・ぶどう

問い2



麻衣さんは中野市のよさを伝える親善大使となり、「中野市のイメージソング」を作りうたっています。このイメージソングの名前は何でしょう。

- 1 空みつめて 2 菜の花 3 空みあげて

問い3



これはみなさんが持っている「中野市ふるさとドリル」の表紙にあるQRコードです。これを開くと〇〇合唱団が歌う「中野市のイメージソング」を聴くことができます。合唱団の名まえは何でしょう。

- 1 中野市少年少女合唱団 2 晋平少年少女合唱団 3 辰之少年少女合唱団

問い4



これは市のマークです。ある漢字とひらがなをくみあわせて作りました。正しい番号は何番でしょう？

- 1 中とな 2 野とな 3 中との

問い5

中野市の人口は長野県の市町村（77市町村）の中で多い方から14番目です。中野市も人口を増やすために努力していますが少しずつ減ってきています。現在の人口は

- 1 約22000人 2 約32000人 3 約42000人

問い6

わがまち中野市の花と木と鳥です。正しいくみあわせはどれでしょう。

花

木

鳥



- | | | | | | |
|---|-----|-------|-----|-----|---------|
| 1 | バラ | シャクヤク | りんご | もみじ | チョウゲンボウ |
| 2 | バラ | コスモス | りんご | もみじ | ワシ |
| 3 | ボタン | シャクヤク | りんご | カエデ | チョウゲンボウ |

問い7

北信五岳といえば中野市からよく見える5つの山ですが、ちょうど真ん中に見える山は何という山でしょう。

- 1 飯縄山 2 黒姫山 3 妙高山

問い8



こうしゃさん まだらおさん せいくら
高社山と斑尾山の背比べ、どちらが高かったですか。また、また、せいくら
ふた やま とい わ なが みず ながわ い
二つの山にかけた樋が割れて流れた水は何川になったと言われているでしょうか。

- 1 こうしゃさん ほう たか ちくまがわ い
高社山の方が高く、千曲川になったと言われている。
- 2 まだらおさん たか よませがわ い
斑尾山さんが高く、夜間瀬川になったと言われている。
- 3 まだらおさん ほう たか ちくまがわ い
斑尾山の方が高く、千曲川になったと言われている。

問い9

いま やく
今から約二千年前のものといわれる「柳沢遺跡」で「銅鐸と銅戈」が発見されました。
どうたく ちゅうごく なか きんぞく ぼう
銅鐸は中国では中に金属の棒をつりさげて

- 1 みず
水をくむための
- 2 た もの
食べ物をにるための
- 3 音をならす



どうたく
(銅鐸)

ものでした。

問い10

しゃしん
この写真にある2つの青銅器は東日本の長野県でも使われていることが
わかりました。日本で作られた青銅器は主に何につかわれていたでしょう。

- 1 まつり
- 2 いね か
稲刈り
- 3 武器



問い11



なか の し まちなか たかなしやかたあと
中野市の街中に「高梨氏館跡」があります。この高梨家に生まれ、
たかなし け う きょうと みょう
しんじ 寺というお寺を開いたこのしゃしん ひと
心寺というお寺を開いたこの写真の人はだれでしょう。

- 1 たかなしまさもり
高梨政盛
- 2 にしはら み の さく
西原己之作
- 3 む そうたいし
無相大師

問い12

ねん たかなしまさもり
1510年高梨政盛は〇〇の武士と争い勝利します。その勝利を祝うために始まったのが〇〇祭だ
い
と言われています。〇〇に入ることで正しい組み合わせはどれでしょう。

- 1 えちご
越後・ぎおん
- 2 えちご ションション
- 3 たけだ
武田・ションション

問い13

たかなしうじ あいづ うつ
高梨氏が会津へ移ったあと、江戸時代の1616年から中野の中心地は何と呼ばれるようになった
でしょう。

- 1 なかのりょう
中野領
- 2 たかなしりょう
高梨領
- 3 てんりょう ぼくふりょう
天領 (幕府領)

問い14

くろひめものがたり
「黒姫物語」では最初、黒姫の前に現れ、黒姫からお酒をもらい、嬉しそうに飲み干して去って
いきました。最初に黒姫の前に現れた時の姿は何だったでしょう。

- 1 しろへび
白蛇
- 2 若者
- 3 龍

問い15



くろひめものがたり りゅう くろひめ せなか の みょうこう あいだ やま
「黒姫物語」では龍が黒姫を背中に乗せ、妙高と〇〇の間の山におり、
さんちよう いけ くろひめ く
山頂の池で黒姫と暮らすようになったと言われています。〇〇に入る山の
なまえ なん
名前は何でしょう。

- 1 とがくし
戸隠
- 2 いいづな
飯縄
- 3 くろひめ
黒姫

問い16

(手を大きく開いて) まいとし がつ おこな
毎年7月に行われる「ションションまつり」のションションは今もまつり
しきてん さいご おこな てじ
ションションション や式典の最後に行われる手締めです。「何締め」と呼ばれているでしょう。

- 1 なかのじ
中野締め
- 2 ほくしんじ
北信締め
- 3 てんりょうじ
天領締め

ション ション

問い17

ほくりくしんかんせん なかのし まなか なんぼく ほし
北陸新幹線は中野市のほぼ真ん中を南北に走っています。その新幹線の位置は千曲川から見て、
つぎ ばしよ ばし
次のどの場所を走っているでしょう。

- 1 ひがしがわ 東側 2 ちょうどまうえ ちょうど真上 3 にしがわ 西側

問い18

なかのつちにんぎょう なかのにんぎょう たてがはなにんぎょう ただ せつめい
中野土人形は「中野人形」と「立ヶ花人形」があります。正しく説明しているのはどれでしょう。

- 1 「中野ひな市」は毎年3月31日と4月1日に開かれているよ。
2 中野土人形は4月1日だけ売り出されているよ。
3 つちにんぎょう えつ たいけん にほんつちにんぎょうしりょうかん しんしゅうなかのかんこう
土人形の絵付け体験ができるのは日本土人形資料館と信州中野観光センターの2つだけだよ。

問い19

なかのにんぎょう たてがはなにんぎょう せつめい ただ なんぼん
「中野人形」と「立ヶ花人形」の説明で正しいのは何番でしょう。

- 1 立ヶ花人形は西原己之作さんが茶碗をつくる職人さんから土人形の作り方を教わりはじめた。
2 中野の土人形は奈良家を作る「中野人形」と西原家を作る「立ヶ花人形」があって、2つ合わせて「中野土人形」と呼ぶ。
3 中野人形は奈良栄吉さんが大阪へ行って、とてもきれいな土人形に出会って作りはじめた。

問い20

い か つちにんぎょう なまえ ただ く あ なんぼん
以下の3つの土人形の名前で正しい組み合わせは何番でしょう。



- 1 ふくすけ 福助 つき 月のうさぎ だいく 大黒
2 ふぐ乗りのだいく 大黒 がつ 月のうさぎ ふくすけ 福助
3 ふぐ乗りのだいく 大黒 こいぬ 子犬 ふくすけ 福助

問い21



ねん めいじ ねん なかのし しんの ひと な
1887年（明治20年）中野市の新野地区で生まれこの人の名まえは〇〇で、〇〇
という曲も作りました。〇〇に入る組み合わせで正しいのは何番でしょう。

- 1 高野辰之・ふるさと 2 中山晋平・しゃぼん玉 3 中山晋平・もみじ

問い22

にほん と しゃしん せんせい さつぎやく うた
日本のフォスターといわれる問い21の写真の先生が作曲した「カチューシャの唄」のカチュー
シャとは

- 1 おんな ひと かみ つか かざ
女の人が髪をたばねるときに使う飾り
2 ものがたりにて わか おんな ひと なまえ
物語に出てくる若い女の人の名前
3 むかし よ くに ゆうめい きょく なまえ
昔ロシアと呼ばれていた国の有名な曲の名前 だよ。

問い23

と しゃしん せんせい つく きょく かんけい した ぞう なか きねんかん まえ
問い21の写真の先生が作った曲に関する下の3つの像の中で「記念館」の前にあるものはどれ
でしょう。

1



2



3



問い24



1876年（明治9年）中野市の永江地区で生まれこの人は〇〇で、この人が作った唱歌「ふるさと」に出てくる「かの川」は〇〇川といわれています。〇〇に入る組み合わせで正しいのは何番でしょう。

- 1 高野辰之・斑川 2 中山晋平・斑川 3 高野辰之・千曲川



問い25

問い24の写真の先生が作った唱歌「ふるさと」に出てくる「うさぎ おいしい」は

- 1 家で飼っていたうさぎがにげて悲しい
2 狩りでつかまえたうさぎを食べておいしかった
3 むかし、山うさぎを追いかけた という意味だよ。

問い26

問い24の写真の先生は他にもいろいろな歌を作詞しています。絵と曲名が正しいのはどれでしょう。



- 1 もみじ 小川 日の丸の旗
2 かえで 春の小川 日の丸
3 もみじ 春の小川 日の丸の旗

問い27



ゆきちゃんは中野市の民俗資料室でみたこの写真の道具を使って、そばの実をこなにしました。この道具の名まえは何というでしょう。

- 1 唐箕（とうみ） 2 石臼（いしうす） 3 綿繰り機

問い28



せやくんはこの写真を見て「これ知ってるよ。〇〇っていうんだ。なべものや家族で食事をしていたところだよ」と言いました。〇〇に入る名前はなんでしょう。

- 1 唐箕（とうみ） 2 石臼（いしうす） 3 いろり

問い29

「よんべなおそくまで、ずくだしてきただ。」は中野市の方言の一つです。今のことばになおすと

- 1 4日前からやってきてつかれました。
2 きゆう（昨夜）おそくまでがんばってきました。
3 きゆう（昨夜）おそくまでやって楽しかったです。 という意味だよ。

問い30



写真の野菜は中野市の標高の高いところで昔からつくられています。「長野県の伝統野菜」にもなっているこの野菜の名まえはなんでしょう。

- 1 ピーマン 2 ぼたんこしょう 3 はくほう

問い31

きゅうじつ とも しな い か ゆうめい しょ み まわ み
 休日にせいやくんは友達と市内にある以下の有名な3か所を見て回りました。それぞれ見て
 まわ ところ せつめい まちが しょ づぎ なんばん く あ
 回った所の説明で間違っているところが2か所あります。それは次の何番の組み合わせでしょう。

ぼく きょう しないたんけん じゅうざんがけ
 僕たちは、今日3か所の市内探検をしました。十三崖は下を①千曲川が流れ②チョウゲンボウ
 はんしよく ぼしょ め み しりつはくぶつかん ゆうだい
 が繁殖している場所でしたが、目で見えることはできませんでした。市立博物館からは雄大な③
 ぼくしんごがく み み まだらおおおいけ さいご い ほんが こうえん
 北信五岳がきれいに見え、下に④斑尾大池があり、最後に行った版画ミュージアムのある公園
 は⑤バラ祭りでも有名な場所でした。

十三崖



市立博物館



版画ミュージアム



1 ①④

2 ②⑤

3 ③④

問い32



なかの し さいばい さか しゃしん せいざんりょう ぜんこくいち い こおり
 中野市はキノコの栽培も盛んです。写真のキノコの生産量は全国一位で〇〇氷の
 なまえ ゆうめい なまえ
 名前でも有名です。このキノコの名前は

1 エリンギ

2 えのきだけ

3 ぶなしめじ

問い33

つぎ
 次の〇〇に入るキノコの名前で正しい組み合わせは何番でしょう。

- 全体がぬめぬめしているキノコで、みそ汁にいれるとおいしい〇〇。
- 中野市以外では沖縄、和歌山、滋賀でも栽培され、その歯ざわりがあわびを思わせることからこの名前がついている〇〇というキノコ。

1 エリンギ・くろあわびだけ

2 なめこ・ぶなしめじ

3 なめこ・くろあわびだけ

問い34

うみ なかの し あさばん きおん さ おお あま ま
 海のない中野市は朝晩の気温の差も大きく、それがくだもの甘さを増しているといわれています。

りんご、ぶどう、さくらんぼの名前で正しい組み合わせはどれでしょう。

りんご

ぶどう

さくらんぼ

1 ふじ

きよほう

さとうにしき

2 ながのぱーぷる

さとうにしき

たかさご

3 らふらんす

しゃいんますかつと

はくほう

問い35

なかの し なか さいばい ふく いちばんはや た
 中野市の中でハウスでの栽培を含めて、一番早く食べられるくだものはどれでしょう。

1 りんご

2 ぶどう

3 さくらんぼ

問い36



さんきょうだい なか なかの し お だぎりたけ お つく なかの
 「りんご三兄弟」の中で、中野市の小田切健男さんがはじめて作った中野
 しゅう ちようなん じなん なまえ
 生まれのりんごは長男（あきばえ）になります。次男のりんごの名前は
 なん
 何でしょう。

1 シナノゴールド

2 シナノスイート

3 ナガノパープル

問い37



一本木公園に最初に〇〇を植え始めたこの写真の〇〇さんは高校の先生だった人です。 〇〇に入ることばで正しい組み合わせはどれでしょう。

- 1 バラ・黒岩喜久雄
- 2 シャクヤク・小田切健男
- 3 シャクヤク・黒岩喜久雄

問い38



中野市では花の栽培もたくさんしています。中でも中野市の花でもあり、生産量全国一位のこの絵の花のなまえは何でしょう。

- 1 バラ
- 2 シャクヤク
- 3 トルコギキョウ

問い39

地元で生産されたものを地元の人びとが〇〇することを漢字四文字で「地産地消」と言います。〇〇に入ることばは何でしょう。

- 1 消費 (食べること)
- 2 買うこと
- 3 売ること

問い40



わたしたちの給食では毎月〇〇日は国で決めた〇〇の日です。この日にあわせて中野市や長野県でとれた作物をつかったこんだてにしています。〇〇に入ることばの組み合わせで正しいのはどれでしょう。

- 1 19・食育
- 2 19・給食
- 3 20・食育

問い41

中野市の給食では、米、きのこ（えのきたけ、しめじ、エリンギ）、果物（リンゴ、きよほう、さくらんぼ、メロン）、野菜（キュウリ）はぜんぶ中野市内で生産されたものなんだよ。中野市の給食の中で1つだけ中野市で生産されていない食べ物は何でしょう。

- 1 エリンギ
- 2 さくらんぼ
- 3 メロン

問い42

わたしたちの食べている給食は3つの栄養グループ（「体をつくる食べもの」・「体を動かすためのエネルギーをつくる食べもの」・「体の調子をととのえる食べもの」）をバランスよく考えて作られています。次の料理の中で「体を動かすためのエネルギーをつくる食べもの」が一つあります。どれでしょう。

- 1 やきいも
- 2 なめこじる
- 3 オムレツ


問い43

「まちゼミ」って何？その説明で正しいものを一つ選びましょう。

- 1 小学校にお店の人が来て、自分のお店のことを教えてくれる講座です。
- 2 いろいろなお店の人が先生になって、お店だから知っていることを教えてくれる講座です。
- 3 学校の先生がいろいろなお店に行き、そのお店のことを教えてくれる講座です。

問い44

まちゼミに参加したせいやくんは地図を参考にあるお店をさがしています。
地図の中に出てくる次の地図記号は何を表しているのでしょうか？正しい組み合わせの番号を選んでみよう。



- 1 市役所
- 2 病院
- 3 市役所



- 1 郵便局
- 2 小学校
- 3 小学校



- 1 警察署
- 2 市役所
- 3 病院

問い45

ある日、ゆきちゃんはお母さんといっしょにお出かけしました。最初はおばあちゃんが毎日飲んでいるお茶を①で買い、②でたのんでいたパンフレットをもらい、お母さんの好きな着物を見るために③へ、最後におじいちゃんからたのまれていたお酒を④で買って帰ってきました。どのお店も百年以上続いているお店だそうです。①②③④に入るお店で正しい組み合わせがどれでしょう。

- | | | | |
|-----------|---------|--------|--------|
| 1 ①菊一屋本店 | ②高錦堂印刷所 | ③西沢園 | ④丸世酒造店 |
| 2 ①西沢園 | ②高錦堂印刷所 | ③菊一屋本店 | ④天領營酒造 |
| 3 ①高錦堂印刷所 | ②西沢園 | ③菊一屋本店 | ④丸世酒造店 |

問い46

中野市内の会社「コシナ」の工場で作られ、2016年に宇宙船にとりつけられ、流星観測をしている「メテオ」に使われている製品はなんでしょう。

- | | | |
|-----------|-----------|----------|
| 1 熱に強いガラス | 2 カメラのレンズ | 3 熱に強いゴム |
|-----------|-----------|----------|

問い47

中野市内の会社「タカギセイコー」の工場では、体のある部分の病気や傷を発見したり、治療に使う製品が作られ、日本や世界中の病院で使われています。体のある部分とはどこでしょう。

- | | | |
|-----|------|-----|
| 1 眼 | 2 心臓 | 3 耳 |
|-----|------|-----|

問い48



地球温暖化をふせぐために中野市では「かんきょうにやさしい中野市」をめざしています。

この写真は〇〇で動く自動車用のスタンドです。〇〇に入ることは何でしょう。

- | | | |
|------|--------|--------|
| 1 電気 | 2 ガソリン | 3 太陽の光 |
|------|--------|--------|

問い49



中野市内では〇〇をつくる工場を出た使用済み培地（写真バイオマス）を発酵させてできた〇〇の力で電気をつくっています。正しい組み合わせの番号を選んでみよう。

- | | | |
|----------|----------|---------|
| 1 チップ・ガス | 2 キノコ・ガス | 3 キノコ・熱 |
|----------|----------|---------|

問い50



ひまわり保育園（写真）では〇〇を集めて電気をつくっています。市内のお家でもたくさん見かけることができます。〇〇に入ることは何でしょう。

- | | | |
|-----|--------|-----|
| 1 風 | 2 太陽の光 | 3 水 |
|-----|--------|-----|